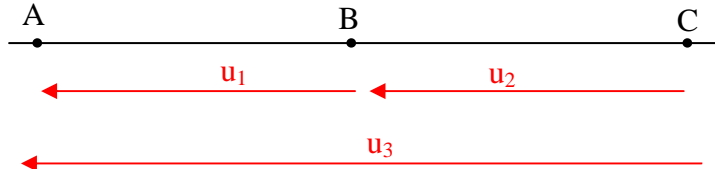


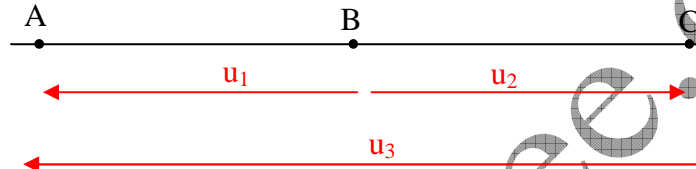
## التمرين 04

أكتب العلاقة بين التوترات في الحالات التالية :

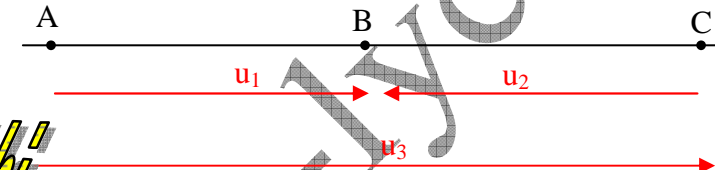
الحالة 1 :



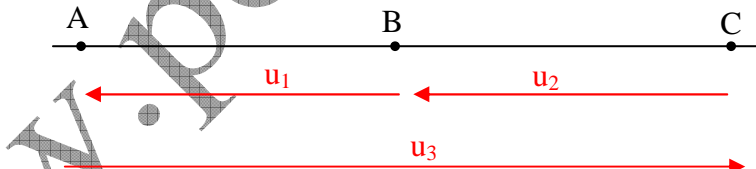
الحالة 2 :



الحالة 3 :



الحالة 4 :



الحالة 5 :

