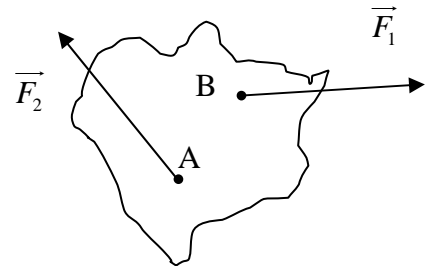
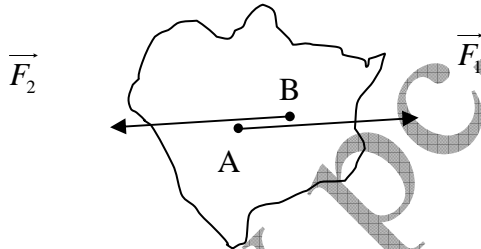
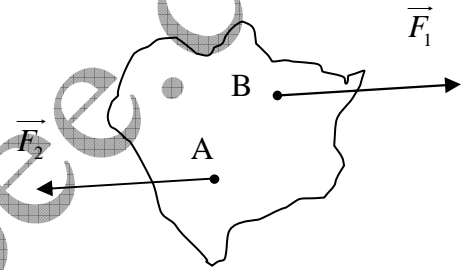
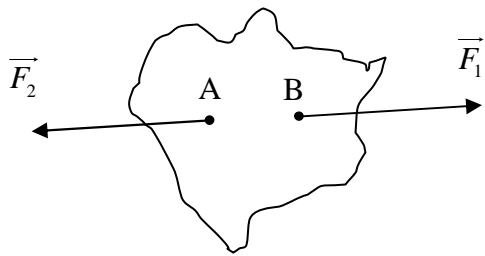


التمرين 01

www.pc-lycee.com

تبيين الأشكال التالية حالات مختلفة لجسم صلب تحت تأثير قوتين لهما نفس الشدة. في أي الحالات يتحقق التوازن؟ في حالة التوازن، حدد هل هو مستقر أم غير مستقر.

3



Mohammed Sobhi